


Mengen erfassen im Zahlenraum bis 5 (Teil 2)

1. Wie viele sind es?



2. Kreise ein
immer 2




immer 3




immer 4



immer 3



immer 4



immer 5

